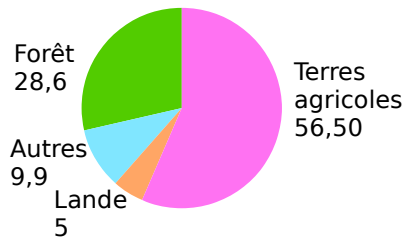


Feuille d'exercices 28 – Lecture de tableaux et de graphiques

Autour de la forêt (Source : www.ifn.fr)

Document 1 :

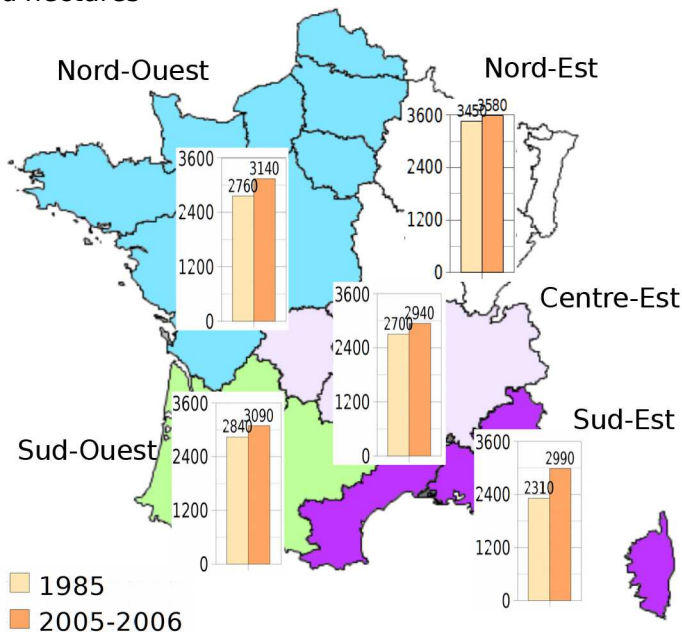
Couverture du sol en France en 2008 (en %)



Document 2 : En 2013, dix départements ont un taux de boisement inférieur à 10 %. Six départements sont couverts pour plus de moitié de forêt.

Département	Var	Landes	Alpes-Maritimes	Alpes-de-Haute-Provence	Ardèche	Corse du Sud
Taux de boisement en %	64 %	62 %	60 %	56 %	55 %	68 %

Document 3 : Superficie forestière en milliers d'hectares

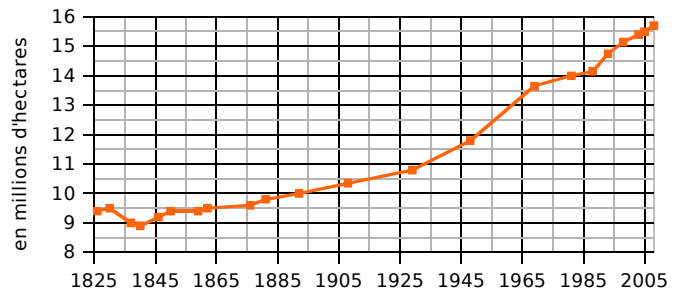


Document 4 :

En 2008	Superficie des forêts dédiées à la production de bois (en milliers d'ha)	Volume sur pied (en millions de m ³)	Production brute annuelle (en millions de m ³)
Essence			
Chêne	5 440	681	19,6
Hêtre	1 390	260	8,4
Autres feuillus	3 550	560	27,9
Sapin-Épicéa	1 210	368	16,5
Pin maritime	1 100	179	11,1
Autres conifères	2 170	358	17,6
Total	14 860	2 406	101,1

Document 5 :

Évolution de la surface forestière française



Tu répondras à chacune de ces questions en précisant quel document t'a permis de répondre.

a. Comment la surface forestière française a-t-elle évolué depuis 1825 ?

.....

.....

.....

b. Quel pourcentage de la couverture du sol la forêt représente-t-elle en 2008 ? Compare avec les terres agricoles.

.....

.....

.....

c. Que signifie le 62 % dans le **document 2** ?

.....

.....

.....

d. Quelles sont les superficies forestières dans le Sud-Est en 1985 et en 2005-2006 ?

.....

.....

.....

e. Quel est le volume sur pied de l'ensemble des feuillus en 2008 ?

.....

.....

.....

f. Compare la superficie forestière du Nord-Ouest et du Centre-Est en 1985.

.....

.....

.....