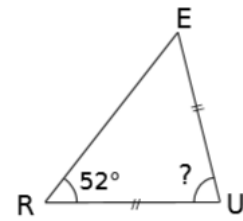
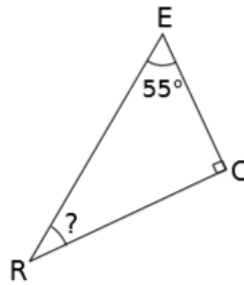
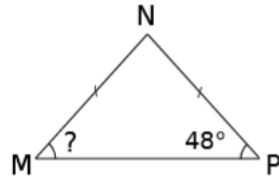
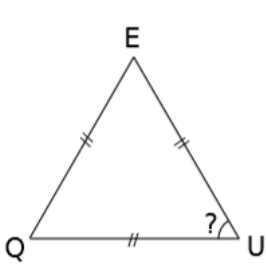


Feuille d'exercices 24 - Révision sur les angles du triangle

Exercice 1 : Pour chaque triangle ci-dessous, donne le nom de l'angle marqué d'un point d'interrogation, puis écris une expression qui permet de calculer sa valeur et enfin effectue le calcul.



Exercice 2 : Donne la nature de chacun des triangles ci-dessous. (isocèle, équilatéral, rectangle, rectangle isocèle ou quelconque). Pour cela, tu peux commencer par calculer les mesures des angles inconnus comme dans l'exercice précédent.

