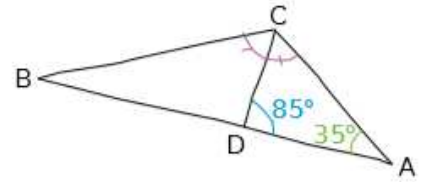


# Feuille d'exercices 25 - Révision sur les angles du triangle

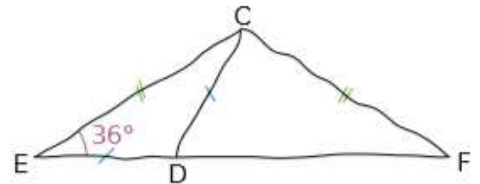
## Exercice 1

Calcule les mesures des angles du triangle CBD sachant que les points B, D et A sont alignés.



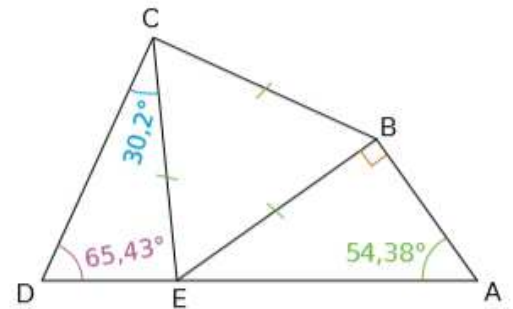
## Exercice 2

Calcule les mesures des angles du triangle CFD sachant que les points E, D et F sont alignés.



## Exercice 3

Dans la figure à droite, les points D, E et A sont-ils alignés ? Justifie.



## Exercice 4

Calcule toutes les mesures de tous les angles des triangles visibles dans la figure à droite.

